

LES MARCHANDS



Je m’entraîne à reconnaître, fabriquer un montant en euros avec des pièces et billets et à l’écrire mathématiquement.

J’apprends à simuler des achats en manipulant des pièces et des billets , à rendre la monnaie.

J’apprends à poser et effectuer des opérations de montants en euro.

1	2	3	4	5	6	7	8	9	10
11	12	13	14	15	16				

LES MARCHANDS

1

► Relie à la bonne somme.



53, 22€



31,50 €



31,61 €



106,20 €



45,25 €



100,75€

LES MARCHANDS

2

► Complète comme le modèle.

125 centimes	= 1 € et 25 centimes	= 1,25 €
... centimes	= 10 € et 95 centimes	= €
209 centimes	=	= €
... centimes	=	= 7,50 €
1 509 centimes	=	= €

3

► Complète le total du ticket de caisse.

L'ÉPICERIE DU COIN

314 bout de la rue, Maville, France

TICKET DE CAISSE

Description	Quantité	Prix unité	Prix total
Filet d'oranges			3,90 €
1 kg de Bananes			1,30 €
3 kg de raisin			6,77 €
Total		 €

MERCI



LES MARCHANDS

4

► **Complète** le total du ticket de caisse.

LE COIN DU BRICOLAGE

TICKET DE CAISSE

Description	Qté	Prix unité	Prix total
Rouleau de papier peint	2	34,50€ €
Colle			4,30 €
Kit « papier peint »			16,50 €
Bon réduction			- 12,50 €
Total		 €

MERCI



5

► **Représente** la monnaie manquante pour atteindre le montant indiqué.

10 €

20c, 1€, 2€, 5c

20 €

10€, 20c, 10c, 5c, 2c, 2€


LES MARCHANDS

6

► **Complète** les étiquettes d'après les informations.



ancien prix




nouveau prix

Le nouveau
prix est de
3 € supérieur à
l'ancien.



ancien prix




nouveau prix

Le nouveau
prix vaut 3,50€
de moins que
l'ancien.



ancien prix



nouveau prix

Le nouveau
prix s'élève à
1,05 € de plus
que l'ancien.

LES MARCHANDS

7

► Voici le ticket de caisse de mes achats. Je donne 10 euros au caissier. **Combien doit-il me rendre ?**

L'ÉPICERIE DU COIN			

TICKET DE CAISSE			

Description	Qté	Prix unité	Prix total
Tablettes de chocolat	2	1,50€ €
Beurre			2,35 €
Farine			1,20 €
Total		 €

MERCI			
			

8

► Voici le ticket de caisse de mes achats. Je donne 30 euros au caissier. **Combien doit-il me rendre ?**

L'ÉPICERIE DU COIN			

TICKET DE CAISSE			

Description	Qté	Prix unité	Prix total
Pommes de terre			3,65 €
Légumes pour ratatouille			7,15 €
Poulet entier			10,20 €
Total		 €

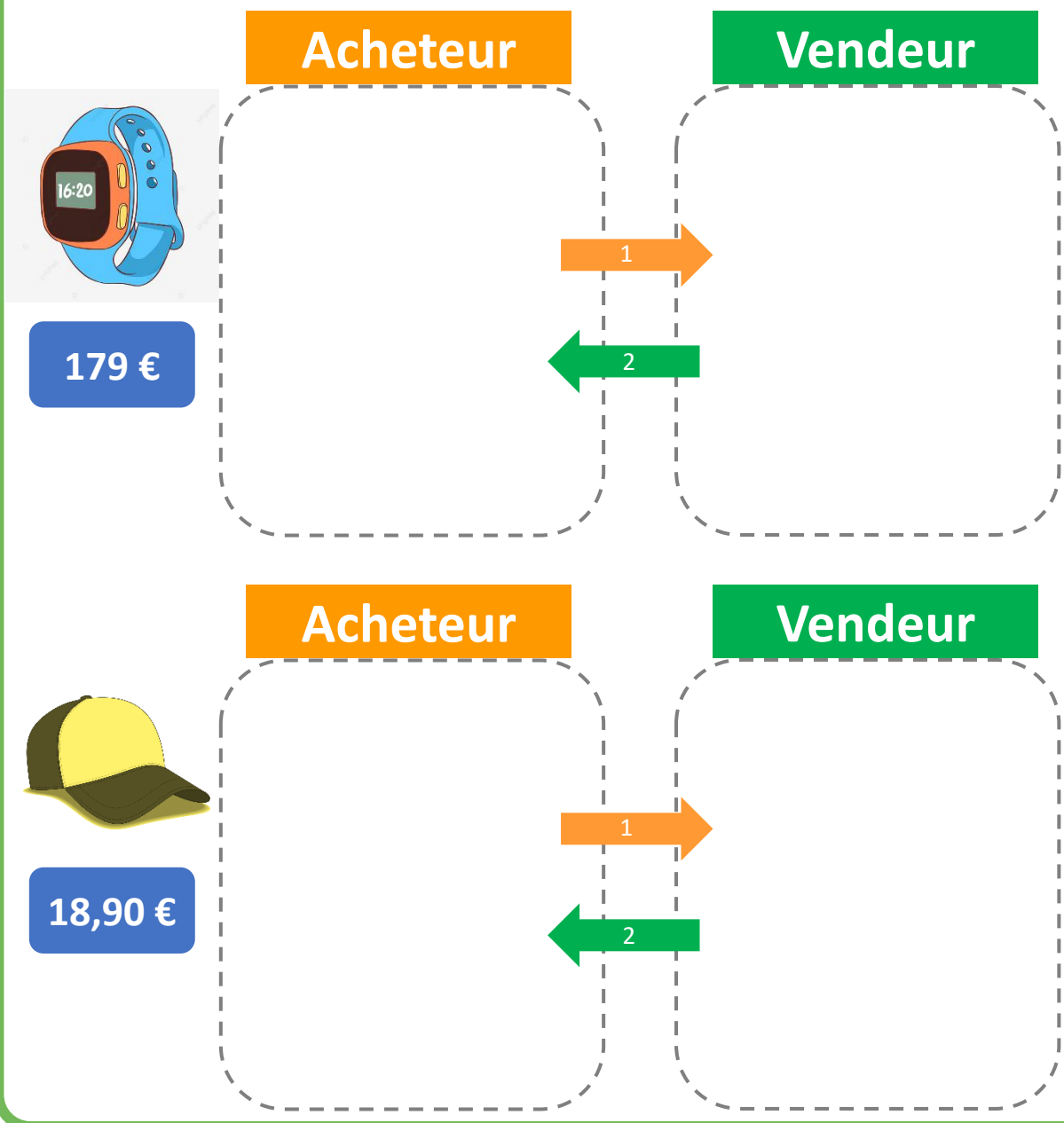
MERCI			
			

LES MARCHANDS

9

► Dessine.

1. Pour l'acheteur : la somme qu'il doit donner pour acheter l'objet. Il n'a que des billets.
2. Pour le vendeur : la monnaie qu'il doit rendre à l'acheteur. Il n'a que des pièces.

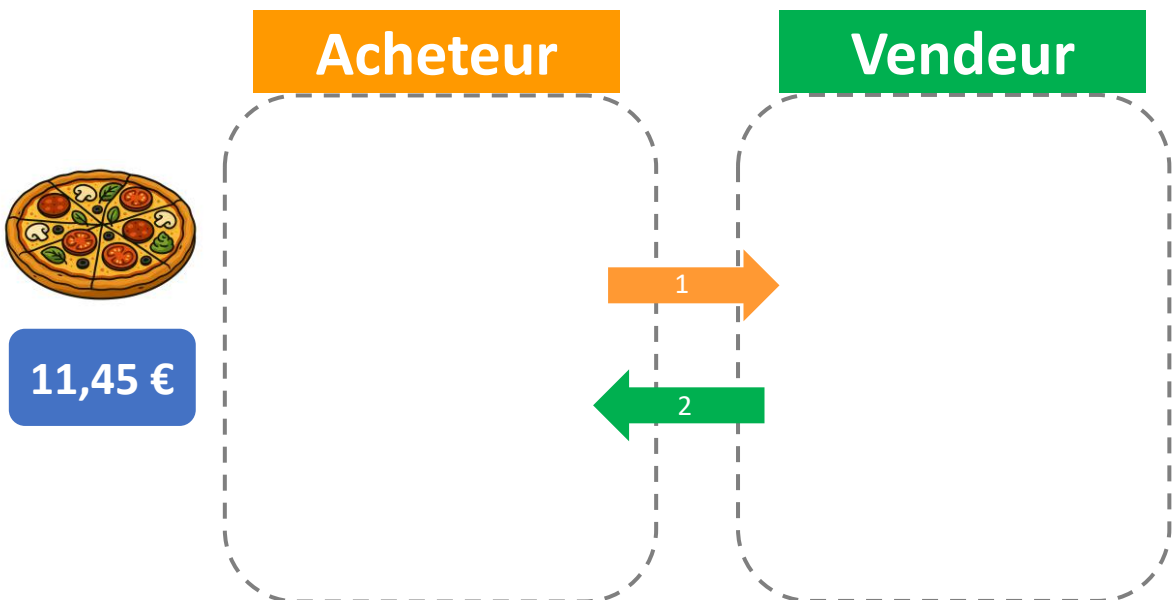
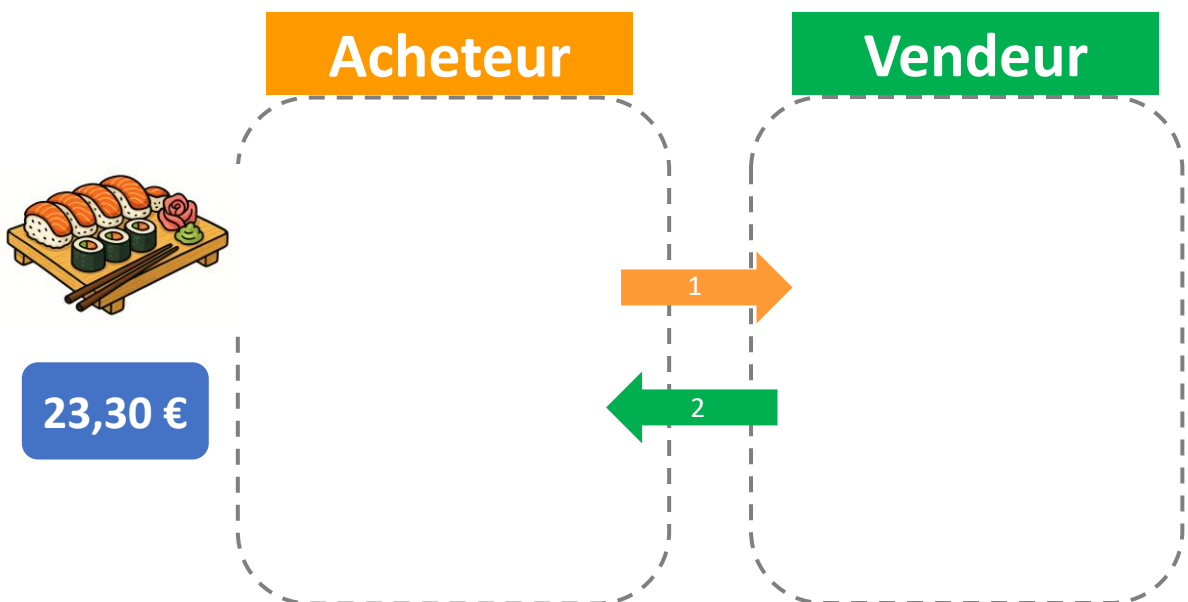


LES MARCHANDS

10

► Dessine.

1. Pour l'acheteur : la somme qu'il doit donner pour acheter l'objet. Il n'a que des billets.
2. Pour le vendeur : la monnaie qu'il doit rendre à l'acheteur. Il n'a que des pièces.



LES MARCHANDS

11

► **Représente** la monnaie manquante pour atteindre le montant indiqué.

10€

20 €

2€

20c

5c

2€

1€

20€

30 €

20c

1€

5c

2€

2c

12

► **Complète** le total du ticket de caisse.

L'ÉPICERIE DU COIN

TICKET DE CAISSE

Description	Qté	Prix unité	Prix total
Filets de poulet			10,3 €
Épices indiennes			3,05 €
Lait de coco			2,20 €
Oignons			0,88 €
Total		 €

MERCI



LES MARCHANDS

13

► Complète comme le modèle.

3 045 centimes	= 30 € et 45 centimes	= 30,45 €
... centimes	= 20 € et 31 centimes	= €
705 centimes	=	= €
... centimes	=	= 15,05 €
1 009 centimes	=	= €

14

► Voici le ticket de caisse de mes achats. Je donne 30 euros au caissier. **Combien doit-il me rendre ?**

L'ÉPICERIE DU COIN

TICKET DE CAISSE

Description	Qté	Prix unité	Prix total
Saucisses			9,25 €
Lentilles (1 kg)			3,15 €
Lardons			10,20 €
Oignons			0,88 €
Total		 €

MERCI




LES MARCHANDS

15

► **Complète** les étiquettes d'après les informations.



ancien prix




nouveau prix

Le nouveau
prix est de
7 € supérieur à
l'ancien.



ancien prix



nouveau prix

Le nouveau
prix vaut 4,50 €
de moins que
l'ancien.



ancien prix



nouveau prix

Le nouveau
prix s'élève à
1,05 € de plus
que l'ancien.

LES MARCHANDS

16

► Dessine.

1. Pour l'acheteur : la somme qu'il doit donner pour acheter l'objet. Il n'a que des billets.
2. Pour le vendeur : la monnaie qu'il doit rendre à l'acheteur. Il n'a que des pièces.

