



HORODATOR ★★

1

2

3

4

5

6

7

8

9

10

11

12

13

14

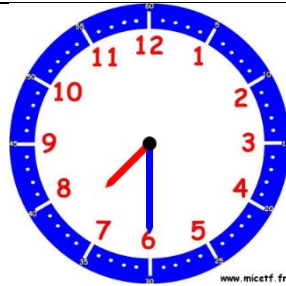
15

Was muss ich verstehen ?

Die Uhr gibt die Zeit mit zwei Zeigern an. Der große Zeiger zeigt die Minuten, der kleine Zeiger gibt die Stunden.



Es ist **4 Uhr**, denn der kleine Zeiger zeigt auf die « 4 » und der große Zeiger zeigt auf die « 12 », die für « 0 » Minuten steht.



Es ist **7 Uhr 30**, denn der kleine Zeiger ist zwischen der 7 und der 8, und der große Zeiger ist auf der 6, die für 6 mal 5 Minuten steht, also 30 Minuten. (= eine halbe Stunde)

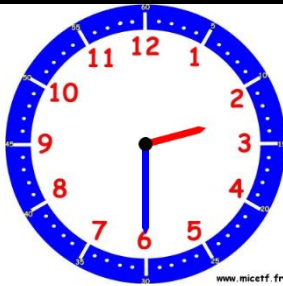


Es ist **8 Uhr 15**, denn der kleine Zeiger ist zwischen der 8 und der 9, und der große Zeiger ist auf der 3, die für 3 mal 5 Minuten steht, also 15 Minuten. (= eine viertel Stunde)

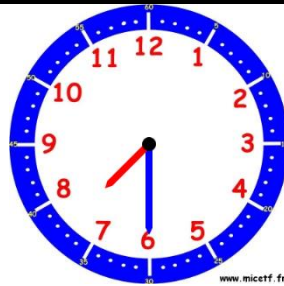


HORODATOR ★★ ★

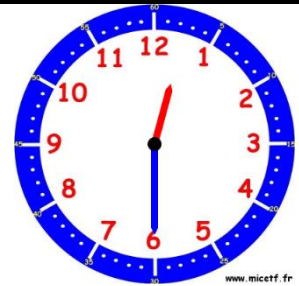
1



www.micetf.fr



www.micetf.fr



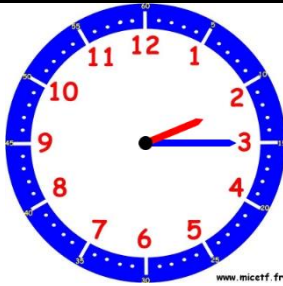
www.micetf.fr

Es ist....Uhr.....Min Es ist....Uhr.....Min Es ist....Uhr.....Min



HORODATOR ★★ ★

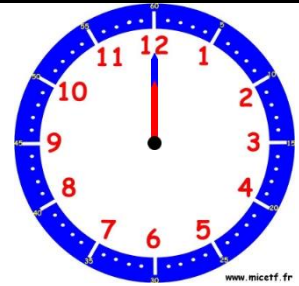
2



www.micetf.fr



www.micetf.fr



www.micetf.fr

Es ist....Uhr.....Min Es ist....Uhr.....Min Es ist....Uhr.....Min



HORODATOR ★★ ★

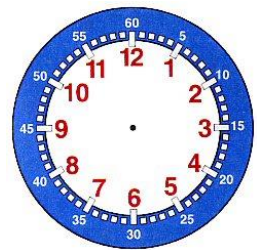
3



www.micetf.fr



www.micetf.fr

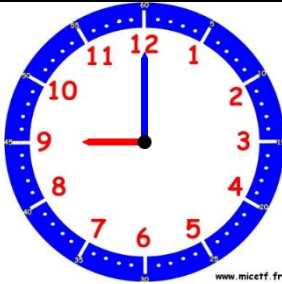


Es ist....Uhr.....Min Es ist....Uhr.....Min Es ist 1 Uhr 15



HORODATOR ★★

4



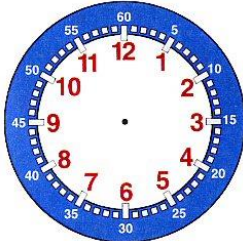
*Wie viel Uhr wird es sein,
wenn ich 1 Stunde dazu
gebe ?*

Es wirdUhr..... sein.

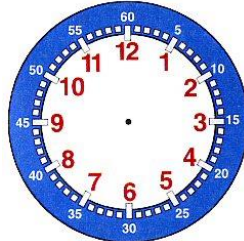


HORODATOR ★★

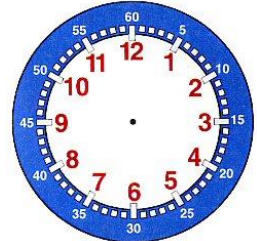
5



Es ist 8 Uhr 45



Es ist 4 Uhr 30

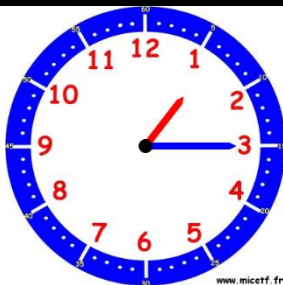


Es ist 2 Uhr 15

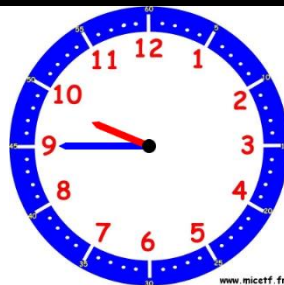


HORODATOR ★★

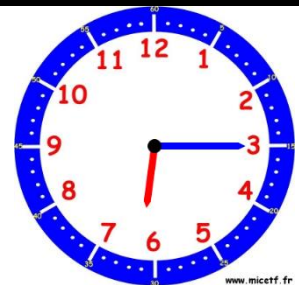
6



Es ist.....Uhr.....Min



Es ist.....Uhr.....Min

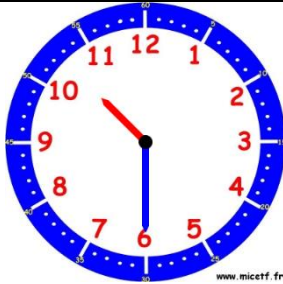


Es ist.....Uhr.....Min



HORODATOR ★★

7



www.micetf.fr



www.micetf.fr



www.micetf.fr

Es ist.....Uhr.....Min

Es ist.....Uhr.....Min

Es ist.....Uhr.....Min



HORODATOR ★★

8



www.micetf.fr

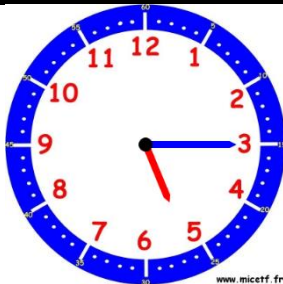
*Wie viel Uhr wird es sein,
wenn ich 30 Minuten dazu
gebe ?*

Es wirdUhr..... sein.

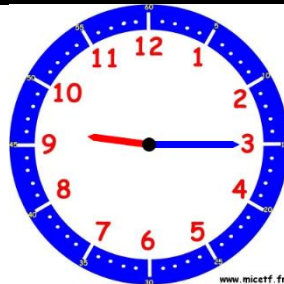


HORODATOR ★★

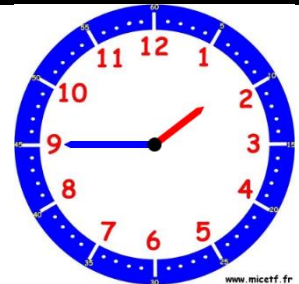
9



www.micetf.fr



www.micetf.fr



www.micetf.fr

Es ist.....Uhr.....Min

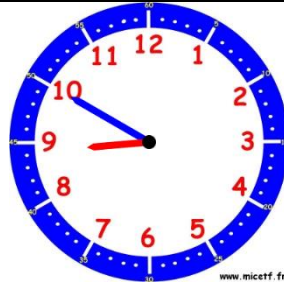
Es ist.....Uhr.....Min

Es ist.....Uhr.....Min



HORODATOR ★★

10



Es ist.....Uhr.....Min

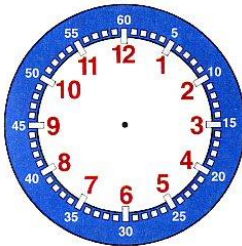
Es ist.....Uhr.....Min

Es ist.....Uhr.....Min

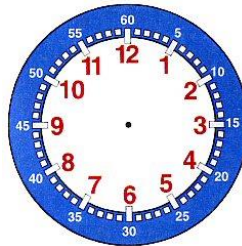


HORODATOR ★★

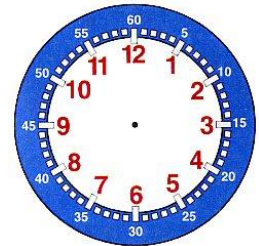
11



4 h 40



3 h 20

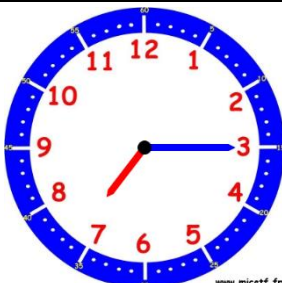


5 h 50



HORODATOR ★★

12



*Wie viel Uhr wird es sein,
wenn ich 1 Stunde und 15
Minuten dazu gebe ?*

Es wirdUhr..... sein.



HORODATOR ★★★

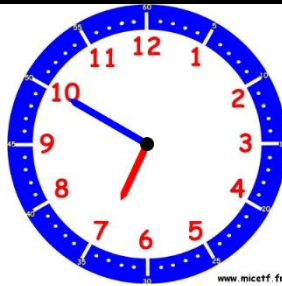
13



....Uhr....Min

oder

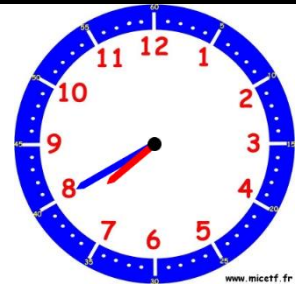
.....



....Uhr....Min

oder

.....



....Uhr....Min

oder

.....



HORODATOR ★★★

14



*Wie viel Uhr wird es sein,
wenn ich 1 Stunde und 15
Minuten dazu gebe ?*

Es wirdUhr..... sein.



HORODATOR ★★★

15



*Wie viel Uhr wird es sein,
wenn ich 1 Stunde und 45
Minuten dazu gebe ?*

Es wirdUhr..... sein.